

QU'EST-CE QUE LE MOYEN ÂGE ?

1 Réponds aux questions du texte.

● LES MÉROVINGIENS

1. Qui réussit à stopper les invasions barbares ? **Clovis a réussi à stopper les invasions barbares.**
2. À quelle dynastie ce roi franc appartient-il ? **Clovis appartient à la dynastie des Mérovingiens.**
3. Que dit la loi des Francs, à la mort d'un roi ? **À la mort d'un roi son territoire est divisé entre tous ses fils.**
4. Comment s'appelle la religion des Sarrasins ? **La religion des Sarrasins est l'Islam.**




● LES CAROLINGIENS

5. Quelle nouvelle dynastie chasse les Mérovingiens ? **Les Carolingiens chassent les Mérovingiens.**
6. Quel est le roi le plus célèbre de cette dynastie, couronné empereur en l'an 800 ? **Charlemagne**
7. Qui, par la suite, attaque le royaume des Francs ? **Les peuples Normands attaquent le royaume des Francs.**

● LES CAPÉTIENS

8. Comment s'appellent les descendants d'Hugues Capet ? **Ils s'appellent les Capétiens.**
9. Que font-ils pour ne plus diviser le royaume ? **Ils lèguent leur royaume uniquement à leur fils aîné.**
10. Nomme deux types de constructions du Moyen Âge. **Les châteaux, forts et les églises.**

2 Place où il faut les mots suivants : Mérovingiens, Carolingiens, Capétiens, Sarrasins, Normands, Anglais.

Normands	Mérovingiens	Capétiens
		
Carolingiens	Sarrasins	Anglais

3 Complète la frise ci-dessous.

Écris au bon endroit *dans* la frise les mots suivants : « Mérovingiens », « Carolingiens », « Capétiens ». Puis place aussi au bon

Mérovingiens	Carolingiens	Capétiens
476	751	987
endroit <i>sous</i> la frise les dates « 476 », « 751 », « 987 » et « 1492 ».. Colorie ensuite chaque période de la couleur de ton choix.		